

Trofeul “ Via-Retezat” - 2024, Munții Retezat

1. În anul 1928, naturaliștii români, la primul lor congres de la Cluj, au cerut înființarea primului parc național de pe teritoriul României, Parcul Național Retezat, care ființează legal din anul:
 - a. **1935**
 - b. 1928
 - c. 1971
2. În inima Parcului Național Retezat, s-a realizat în 1955, o zonă științifică (rezervație integrală), de 1800ha, care a fost declarată ca arie strict protejată, în care pășunatul, vânătoarea, pescuitul și exploatarea forestieră au fost strict interzise, arie numită:
 - a. Rezervația naturală Retezat
 - b. **Rezervația Științifică Gemenele**
 - c. Rezervația naturală Zănoaga
3. Parcul Național Retezat, se învecinează cu:
 - a. Parcul Național Buila-Vânturarița
 - b. **Geoparc dinozauri Tara Hațegului**
 - c. Parcul Național Munții Rodnei
4. Câte lacuri și tăuri sunt în munții Retezat?
 - a. 50 de lacuri și tăuri
 - b. **Peste 82 de lacuri și tăuri**
 - c. 150 de lacuri și tăuri
5. Care este cel mai înalt vârf (2509m altitudine) din munții Retezat?
 - a. Vf. Retezat
 - b. **Vf. Peleaga**
 - c. Vf. Bucura
6. Ce Tău avem în imagine:



- a. **Tăul Tapului**
- b. Tăul Dintre Brazi
- c. Tăul Negru

7. Lacul din imagine este cel mai adânc lac glaciatic din România având o adâncime de 29 m și se află în Munții Retezat:



- a. **Lacul Zanoaga**
- b. Lacul Bucura
- c. Lacul Lia

8. Ieșit din ceață, avem:



- a. Vârful și Colții Bucurii
- b. **Vârful și Colții Pelegii**
- c. Vârful Păpușa

9. Câte vârfuri peste 2500 m altitudine sunt în Masivul Retezat

- a. 3
- b. 5
- c. **2**

10. Lacul din imagine este...?



- a. **Lacul Bucura**

- b. Lacul Lia
- c. Lacul Pietrele

11. Cum se numește refugiul din imagine?



- a. **Refugiul Salvamont Bucura**
- b. Gențiana
- c. Refugiul Salvamont Poiana Pelegii

12. Ce animale trăiesc în Parcul Național Retezat?

- a. **Capre negre, râsul, marmota, ursul, cocoșul de munte, barza neagră**
- b. Veverițe, urși, lupi, zimbrii
- c. Capre negre, urși, zimbrii, lupi

13. Vârful din imagine are o altitudine de 2463 m și se numește:



- a. Vârful Retezat
- b. Vârful Galeșul
- c. **Vârful Mare**

14. Animalul acesta drăguț din imagine, a fost adus în Munții Retezat, din munții Alpi, în 1970 și se numește:



- a. **Marmota ... și puiul ei**

- b. Șoareci de munte
- c. Bursuc ... cu puiuț

15. În **Munții Retezat** nu există stații meteorologice, clima fiind determinată prin interpolarea datelor obținute la stațiile meteo:

- a. **Parâng, Petroșani și Hunedoara.**
- b. Parâng, Godeanu, Hunedoara
- c. Parâng, Țarcu, Godeanu

16. Munții Retezat se caracterizează printr-o climă de munte:

- a. **aspră și umedă.**
- b. Caldă și răcoroasă
- c. Caldă și umedă

17. Temperatura medie anuală în zonele ce depășesc 2000 m, în Munții Retezat, este de:

- a) **-2 grade Celsius.**
- b) 0 grade Celsius
- c) +10 grade Celsius

18. Temperatura maximă, în Munții Retezat, urcă în luna Iulie până la:

- a. **+30 grade Celsius,**
- b. +10 grade Celsius,
- c. +25 grade Celsius.

19. Numărul zilelor cu îngheț este de cca:



- a. 150 de zile,
- b. **250 de zile,**
- c. 260 de zile.

20. La ce altitudine se afla Lacul Galeș:

- a. 2040m
- b. **1990m**
- c. 1900m

21. Fenomen optic rar întâlnit, în special în zona montană. Propria umbră proiectată pe ceață, într-un halou de curcubeu, se numește:




- a. **Efectul Gloria**
- b. Spectrul de curcubeu
- c. Gloria de dimineață

22. La ce altitudine se află Vârful Retezat:

- a. 2500m alt.
- b. **2482m alt.**
- c. 2460m alt

23. Norul din imagine se numește:



- a. **Nor Lenticular**
- b. Nor Altocumulus
- c. Nor Cumulonimbus

24. Dacă cerul se acoperă treptat cu nori albicioși, deslânați, fără margini precise (*Alto cumulus flocus*), cum se va manifesta vremea:



- a. vremea se va strica în câteva zile;
- b. vremea se va păstra frumoasă;

c. vremea se va strica în câteva ore;

25. Arbori preferați de trăsnet sunt:



- a. Bradul, plopul și ulmul
- b. Stejarul, plopul și mesteacănul
- c. Ulmul, stejarul și fagul

26. Apelul de urgență pe teritoriul României este și numărul unic pentru apeluri de urgență pentru toate statele Uniunii Europene:



- a. 112
- b. 911
- c. 211

27. În caz de hipotermie, încălzim victima cu folie de supraviețuire și/sau sac de dormit și îi dăm să bea lichide:



- a. calde,
- b. fierbinți,
- c. reci.

28. Cel mai mare lac glaciari din România se află în Munții Retezat - **Lacul Bucura** și măsoară o suprafață de:

- a. 10ha
- b. 8.9 ha
- c. 7ha

29. Cel mai adânc lac glaciar din România se afla în Munții Retezat - **Lacul Zănoaga** și măsoară o adâncime de:

- a. **29m**
- b. 30m
- c. 25,5m

30. Pe ce vale se află Tăul dintre Brazi:


- a. Valea Pietrele,
- b. **Valea Galesului,**
- c. Valea Rea.

31. Cum se numește Lacul din imagine:



- a. Stevia,
- b. Ana,
- c. **Galesu**

32. Ce formațiune este reprezentată în imaginea următoare?



- a. Colții Bucurii
- b. **Colții Pelegii**
- c. Turnul Judele

33. La ce altitudine se afla Tăul dintre Brazi:

- a. 1650m
- b. 1700m
- c. **1740m**

34. Cum se numesc florile din imagine?




- a. **Gentiana (Gentiana Acaulis)**
- b. Clopotel de stanca
- c. Orhidee salbatica

35. In imagine avem:



- a. **Varful Retezat,**
- b. Varful Bucura,
- c. Varful Judele.

36. Cum se numește Tăul din imagine:



- a. Tăul Agățat
- b. Tăul Urăt
- c. **Taul dintre Brazi**

37. Florile din imagine se numesc:



- a. **Rhododendroni (Smârdar)**,
- b. Garofițe de munte,
- c. Gențiane

38. Una din cele mai mari și renumite cascade din Munții Retezat se află pe valea Pietrele, situată la o altitudine de 1050 de metri și se numește:

- a. Cascada Magdalena,
- b. Cascada Ciomfu
- c. **Cascada Lolaia**

39. Cascada din imagine este:



- a. Cascada Maria Magdalena
- b. Cascada Lazăru
- c. **Cascada Lolaia**

40. La ce altitudine se află Șaua Vârfului Mare:

- a. 2430m
- b. 2340m
- c. **2345m**