

CAMPIONATUL NAȚIONAL DE TURISM SPORTIV

“ȘTAFETA MUNȚILOR” & FRTS

ETAPA A VI- A / 2024

TROFEUL “PRO-PARÂNG” EDIȚIA A IX- A



TESTE TEORETICE

1. Cel mai înalt vârf din Munții Mehedinți este:

- a) Vf. Domogled;
- b) Vf. Pietrele Albe;
- c) Vf. Lui Stan;**

2. Valea Cernei desparte...

- a) M-ții Cernei de m-ții Godeanu;
- b) M-ții Cernei de m-ții Mehedinți;**
- c) M-ții Cernei de m-ții Retezat;

3. Crovurile se află în:

- a) Parcul Național Domogled- Valea Cernei;**
- b) Geoparcul Platoul Mehedinți;
- c) Parcul Național Retezat;

4. Vârful Pietrele Albe se află la altitudinea de:

- a) 1353 m;
- b) 1535 m;
- c) 1335 m;**


5. Crovurile Munților Mehedinți mai poartă denumirea de:

- a) dorne;
- b) fundături;
- c) doline;**

6. Care dintre următoarele “chei” nu se găsesc în munții Mehedinți:

- a) *Cheile Țăsnei;*
- b) *Cheile Feregari;*
- c) ***Cheile Corcoaiei;***

7. „Cheile” din imagine se numesc:



- a) *Cheile Tăii;*
- b) *Cheile Feregari;*
- c) ***Cheile Tâmnei;***

8. Moara din imagine care se găsește în Cheile Țăsnei se numește:



- a) *Moara cu noroc;*
- b) ***Moara dracului;***
- c) *Moara lui Nea Ion;*

9. Coniferul din imagine se numește:



- a) *Pinul negru de Mehedinți;*
- b) *Pinul alb bănățean;*
- c) ***Pinul negru de Banat;***

10. Vârful lui Stan se află la altitudinea de:

- a) *1646 m;*
- b) ***1466 m;***
- c) *1644 m;*

11. “Cheile” din imagine poartă denumirea de:



- a) ***Cheile Țásnei;***
- b) *Cheile Feregari;*
- c) *Cheile Tâmnei;*

12. Cascada din imagine poartă denumirea de :



- a) *Cascada Jurca;*
- b) *Cascada Cociu;*
- c) ***Cascada Moara Dracului;***

13. Relieful Munților Mehedinți este format preponderent din:

- a) ***Calcare Jurasice;***
- b) *Roci cristaline;*
- c) *Gresii;*

14. Râul din imagine care dă denumirea văii pe care o străbate se numește:



- a) *Râul Bedina;*
- b) *Râul Bahna;*
- c) ***Râul Cerna;***

15. Vipera bănațeană cu corn din imagine poartă denumirea științifică de:



- a) ***Vipera ammodytes ammodytes;***
- b) *Vipera anonymus anonymus;*
- c) *Vipera ammodytes cornus;*

16. Parcul Național Domogled – Valea Cernei are următoarea dispunere pe județe:

a) *Se află situat în vestul județului Caraș-Severin, ocupând suprafața de 24 285 ha și în sudul județului Mehedinți ocupând suprafața de 8 330 ha și respectiv în nordul județului Gorj cu o suprafață de 27 806 ha;*

b) *Se află situat în estul județului Caraș-Severin, ocupând suprafața de 23 185 ha și în vestul județului Mehedinți ocupând suprafața de 8 220 ha și respectiv în vestul județului Gorj cu o suprafață de 29 806 ha;*

c) *Se află situat în nordul județului Caraș-Severin, ocupând suprafața de 26 185 ha și în estul județului Mehedinți ocupând suprafața de 8 320 ha și respectiv în vestul județului Gorj cu o suprafață de 29 608 ha;*

17. Lacul artificial din imagine alimentat de râul Cerna și afluenții săi se numește:



- a) *Lacul Iovanu;*
- b) *Lacul Cerna;*
- c) ***Lacul Prisaca;***

18. Cascada din imagine se află în M-ții Mehedinți, are o cădere de 120 m și poartă denumirea de:



- a) *Cacada Vânturătoarea;*
- b) *Cascada cailor;*
- c) ***Cascada Cociu;***

19. Planta din imagine poartă denumirea populară de:



- a) ***Lăptucul oii;***
- b) *Lăptucul vacii;*
- c) *Potbal;*

20. În Parcul Național Domogled- Valea Cernei întâlnim următoarele specii de liliac:

a) liliacul mare cu potcoavă (Rhinolophus ferrumequinum), liliacul cărămiziu (Myotis emarginatus), liliacul cu urechi mari (Myotis bechsteini), liliacul cu

potcoavă a lui Blasius (*Rhinolophus blasii*), liliacul mediteranean (*Rhinolophus euryale*), liliacul mic cu potcoavă (*Rhinolophus hipposideros*), liliacul comun (*Myotis myotis*), liliacul cu urechi de șoarece (*Myotis blythii*) și liliacul cu picioare lungi (*Myotis capaccinii*);

b) liliacul mare cu potcoavă (*Rhinolophus ferrumequinum*), liliacul cărămiziu (*Myotis emarginatus*), liliacul cu urechi mici (*Myotis bechsteini*), liliacul cu potcoavă a lui Blasius (*Rhinolophus blasii*), liliacul mediteranean (*Rhinolophus euryale*), liliacul mic cu potcoavă (*Rhinolophus hipposideros*), liliacul comun (*Myotis myotis*), liliacul cu urechi de șoarece (*Myotis blythii*) și liliacul cu picioare scurte (*Myotis capaccinii*);

c) liliacul mare cu potcoavă (*Rhinolophus ferrumequinum*), liliacul alb (*Myotis emarginatus*), liliacul cu urechi mari (*Myotis bechsteini*), liliacul cu potcoavă a lui Blasius (*Rhinolophus blasii*), liliacul mediteranean (*Rhinolophus euryale*), liliacul mic cu potcoavă (*Rhinolophus hipposideros*), liliacul comun (*Myotis myotis*), liliacul cu urechi de iepure (*Myotis blythii*) și liliacul cu picioare lungi (*Myotis capaccinii*).

21. Vârful din imagine care este cel mai înalt vârf din Munții Mehedinți poartă denumirea de:



- a) Vf. lui Bran;
- b) Vf. Domogled;
- c) Vf. lui Stan;**

22. Stațiunea balneo climaterică din imagine, care se află situată pe Valea Cernei, se numește:




- a) Stațiunea Băile Cerna;

b) Stațiunea Băile Bala;

c) Stațiunea Băile Herculane;

23. În imagine se găsește:



a) Crovul Mare;

b) Crovul Medved;

c) Poiana Porcului;

24. Planta din imagine poartă denumirea populară de:




a) Papucul Doamnei;

b) Orhidee de munte;

c) Crin de pădure;

25. Vârful din imagine este:



a) Vf. Pietrele;

b) Vf. Albele;

c) Vf. **Pietrele Albe;**

26. Statuia din imagine aparține personajului mitologic:



a) **Hercules;**

b) Ahile;

c) Iovan Iorgovan;

27. Din punct de vedere geografic, Parcul Național Domogled – Valea Cernei se situează astfel:

a) **Peste bazinul râului Cerna, de la obârșie până la confluența cu râul Belareca, peste masivul Munților Godeanu și al Munților Cernei (pe versantul drept) și respectiv Munților Vâlcanului și Munților Mehedinți pe versantul stâng.**

b) *Peste bazinul râului Cerna, de la obârșie până la confluența cu râul Bala, peste masivul Munților Retezat și al Munților Cernei (pe versantul drept) și respectiv Munților Vâlcanului și Munților Mehedinți pe versantul stâng.*

c) *Peste bazinul râului Cerna, de la obârșie până la confluența cu râul Belarca, peste masivul Munților Retezat și al Munților Cernei (pe versantul drept) și respectiv Munților Vâlcanului și Munților Godeanu pe versantul stâng.*

28. Planta din imagine poartă denumirea populară de:



- a) **Papucul Doamnei;**
- b) Orhidee;
- c) Crin galben de stâncă

29. Planta din imagine poartă denumirea populară de:



- a) Garofița de calcar;
- b) **Barba ungarului;**
- c) Garofița de Banat;

30. Pasărea din imagine poartă denumirea de:



- a) Uli;
- b) **Șerpar;**
- c) Șoim;

31. În fauna protejată a Munților Mehedinți întâlnim următoarele mamifere:

- a) urs brun, lup cenușiu, râs eurasiatic, castor, capra neagră;
- b) urs brun, lup cenușiu, râs eurasiatic, marmota, liliacul;
- c) **urs brun, lup cenușiu, râs eurasiatic, vidra de râu, liliacul;**

32. Podul natural din imagine, structura masivă din calcare, poartă denumirea populară de:



- a) Podul de Piatră;
- b) Podul de calcar;
- c) Podul lui Dumnezeu;**

33. Munții Mehedinți au următoarea orientare:

a) De la NV-SE și sunt mărginiți la vest și sud-vest de Valea Cernei, la nord-est de Valea Motrului și la est și sud – est de Podișul Mehedinți

b) De la NE-SV și sunt mărginiți la vest și sud-vest de Valea Cernei, la nord-est de Valea Motrului și la est și sud – est de Podișul Mehedinți.

c) De la N-S și sunt mărginiți la vest și sud-vest de Dunăre, la nord-est de Valea Motrului și la est și sud – est de Podișul Mehedinți.

34. În Munții Mehedinți clima are următoarele caracteristici:

a) Cu influențe submediteraneene, temperatura medie anuală a aerului este 11-12 ° C în zone joase și 6 ° C în sectorul este 10-11 ° C în zone joase și 7 ° C în sectorul montan înalt, iar cantitatea medie anuală de precipitații este 400 mm în zonele mai joase și 1.300 mm în zonele mai înalte;

b) Cu influențe mediteraneene, temperatura medie anuală a aerului este 11-12 ° C în zone joase și 6 ° C în sectorul este 10-11 ° C în zone joase și 5 ° C în sectorul montan înalt, iar cantitatea medie anuală de precipitații este 500 mm în zonele mai joase și 1.300 mm în zonele mai înalte;

c) Cu influențe submediteraneene, medie anuală a aerului este 10-11 ° C în zone joase și 4 ° C în sectorul montan înalt, iar cantitatea medie anuală de precipitații este 500 mm în zonele mai joase și 1.200 mm în zonele mai înalte;

35. Vârful Domogledul Mare se află la altitudinea de:

- a) 1105 m;**
- b) 1501 m;
- c) 1015 m;

36. Șarpele din imagine poartă denumirea de:



- a) **Șarpele lui Esculap;**
- b) *Vipera comună;*
- c) *Vipera berus*


37. Cum se numește unghiul format dintre o direcție și direcția Nordul geografic?

- a) *orientare;*
- b) *triunghi;*
- c) **azimut;**

38. Care este codul de semnalizare în caz de pericol pe munte?

- a) **6 semnale, din 10 in 10 secunde, timp de un minut;**
- b) *4 semnale, din 15 in 15 secunde, timp de un minut;*
- c) *3 semnale, din 20 in 20 secunde, timp de un minut;*

39. Formele de relief din imagine cu aspect de depresiune circulară pe care le găsim în Munții Mehedinți poartă denumirea:



- a) **Crovuri;**
- b) *Lapiezuri;*
- c) *Dorne;*

40. Animalul din imagine poartă denumirea de:



a) *Marmotă;*

b) *Vidră de râu;*

c) *Castor;*